

# PozitifİK

## BEYAZ YAKA ÖRNEK YETENEK TESTLERİ



### PİK - GENEL YETENEK TESTİ

Bireyin sözel, sayısal ve soyut kavramları anlama, değerlendirme ve problem çözme yeteneğini ölçmektedir.

Soru  
Sayısı

45

Süre

18 dk

#### ÖRNEK SORULAR

1) BD EĞ HJ ?

Yukarıdaki harf serisi belli bir kurala göre oluşturulmuştur. Bu kurala göre sıradaki harfler aşağıdakilerden hangisidir?

- a) İİ                      b) İK                      c) İM                      d) Kİ                      e) KN

2) "Hata yapan kişiye kızmak doğrudur." Ve "Ali mazeretsiz hata yapmıştır." O halde;

- a) Hata yapan kişi Ali'ye kızmalıdır.                      b) Ali hata yapan kişiye kızmalıdır.  
c) Ali'ye kızmak doğrudur.                      d) Ali'ye kızmak doğru olmaz.  
e) Ali doğru olanı yapmıştır.

3) Aşağıdaki sayı dizilerinden hangisi diğerlerinden farklıdır?

- a) 

3	12
9	6

                      b) 

8	32
24	16

                      c) 

5	25
15	10

                      d) 

6	24
18	12

                      e) 

4	16
12	8

4) Ali vadesiz mevduat hesabındaki 450.000 TL'nin üçte birini başka bir bankadaki hesabına aktarmış, kalan parasının 56.000 TL'sini nakit olarak çekmiştir. Ali'nin vadesiz mevduat hesabında kaç TL'si kalmıştır?

- a) 300.000 TL                      b) 356.000 TL                      c) 344.000 TL                      d) 244.000 TL                      e) 224.000 TL


5) 1                      2                      3                      4



Yukarıdaki 1. şekil ile 2. şekil arasındaki ilişkinin benzeri 3. şekil aşağıdakilerden hangisi arasında vardır?

- a)                      b)                      c)                      d)                      e)

6)



Yandaki şekil aynı ebatta küplerden oluşmuştur. Şeklin görünmeyen yüzleri de dikkate alındığında kaç tane küp olabilir?

- a) 11                      b) 12                      c) 13                      d) 14                      e) 15

### SAYISAL ANALİZ TESTİ

Sayısal verileri kavrama, inceleme, değerlendirme ve sayısal verilerle akıl yürütme yeteneğini ölçmektedir.

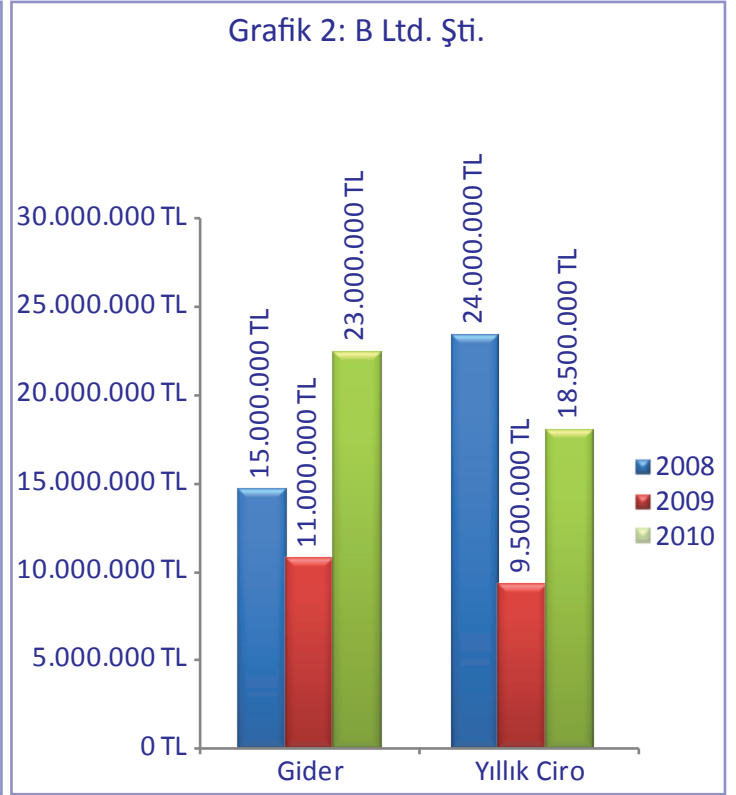
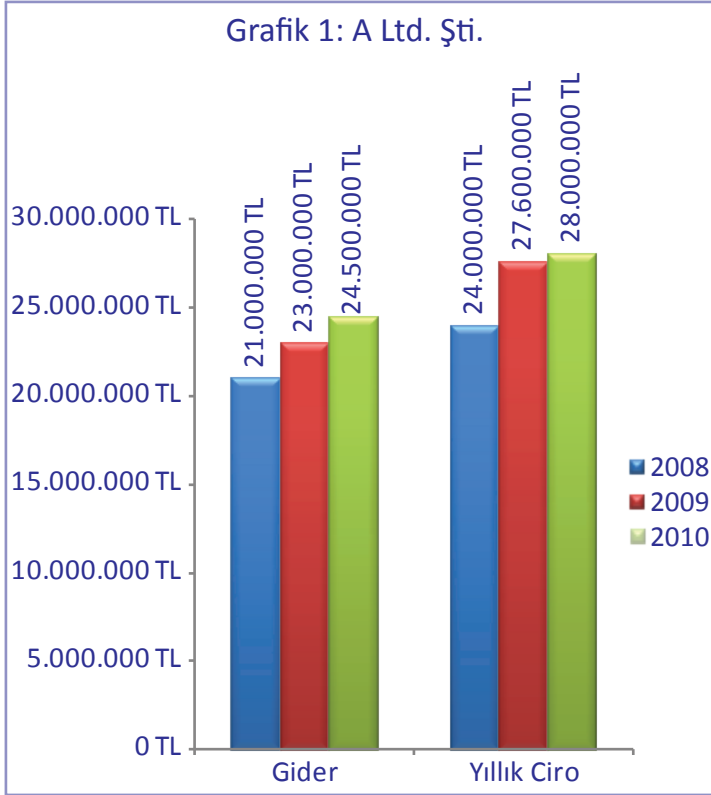
Soru Sayısı

25

Süre

20 dk

#### ÖRNEK SORULAR



Yukarıdaki grafiklerde A Ltd. Şti. ve B Ltd. Şti'nin 2008, 2009 ve 2010 yılı giderleri ve yine bu yıllara ait ciroları verilmiştir.

- B Ltd. Şti.'nin 2008 yılı karı ne kadardır?  
 a) 10.000.000 TL    b) 9.000.000 TL    c) 900.000 TL    d) 19.000.000 TL    e) 9.900.000 TL
- En çok karı hangi yılda, hangi şirket yapmıştır?  
 a) 2008 - A Ltd. Şti.    b) 2009 - A Ltd. Şti.    c) 2010 - A Ltd. Şti.    d) 2008 - B Ltd. Şti.    e) 2010 - B Ltd. Şti.
- A Ltd. Şti, 2008, 2009 ve 2010 yıllarında toplam ne kadar kar elde etmiştir?  
 a) 11.100.000    b) 10.000.000    c) 11.000.000    d) 11.600.000    e) 10.100.000

## SÖZEL ANALİZ TESTİ

Sayısal verileri kavrama, inceleme, değerlendirme ve sayısal verilerle akıl yürütme yeteneğini ölçmektedir.

Soru  
Sayısı

25

Süre

15 dk

## ÖRNEK SORULAR

Aşağıda bir müşteri ile müşteri temsilcisinin diyalogu bulunmaktadır. Bu diyaloga göre verilen soruları cevaplayınız.

**Müşteri:** Merhaba ben Hakan Sunay. Bankanız müşterisi olan Sunay Limited Şirketi'nin sahibiyim. Henüz bir POS makinem yok ve müşterilerime kredi kartı ile alışveriş kolaylığı sağlamak için POS makinesi sahibi olmak istiyorum. Bunun için ne yapmam gerekiyor?

**Müşteri Temsilcisi:** Merhaba Hakan Bey. Size yardımcı olmaya çalışayım. Şirketiniz kaç yıldır varlığını sürdürüyor ve aylık gelirini öğrenebilirmiyim?

**Müşteri:** Yaklaşık aylık 20.000 TL civarında gelirimiz var ve şirketimiz 10 yıldır varlığını sürdürüyor. Fakat neden bu soruyu sordunuz aradaki bağlantıyı kuramadım?

**Müşteri Temsilcisi:** Bankamızın politikası gereği aylık 5000 TL nin altında olan şirketlere POS makinesi bağlayamıyoruz Hakan Bey. Bu yüzden şirketinizin aylık kazancını öğrenmek istedim.

- 1) Sunay Limited Şirketi'nin POS makinesi sahibi olması için cirosunu arttırması gerekir.  
a) Kesinlikle Doğru    b) Kısmen Doğru    c) Karar Verilemez    d) Kısmen Yanlış    e) Kesinlikle Yanlış
- 2) Sunay Limited Şirketi'nin POS makinesi alabilmesi için karlılığı yüksek bir şirket olduğunu ispatlaması gerekir.  
a) Kesinlikle Doğru    b) Kısmen Doğru    c) Karar Verilemez    d) Kısmen Yanlış    e) Kesinlikle Yanlış
- 3) POS makinesi almak isteyen şirketlerin hali hazırda o bankanın müşterisi olması gerekir.  
a) Kesinlikle Doğru    b) Kısmen Doğru    c) Karar Verilemez    d) Kısmen Yanlış    e) Kesinlikle Yanlış

### SOYUT ZEKA TESTİ

Soyut kavrama, 3 boyutlu düşünme yeteneğini ölçmektedir.

Soru Sayısı

Süre

30

15 dk

#### ÖRNEK SORULAR

- 1) Görüntüleri ve büyüklükleri aynı 9 elmanın 8 tanesinin ağırlığı aynı, 1 tanesi diğerlerinden daha hafiftir. Eşit kollu terazi kullanılarak hafif olan en az kaç tartıda bulunabilir?

a) 2


b) 3

c) 4

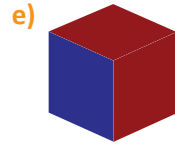
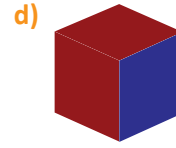
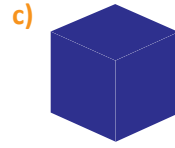
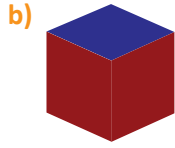
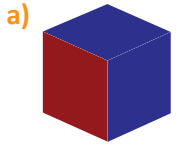
d) 5

e) 6

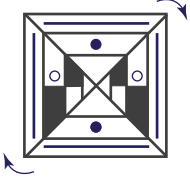
2)



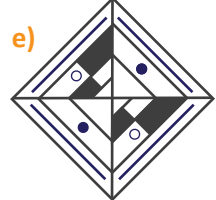
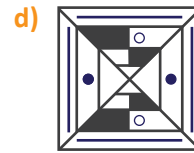
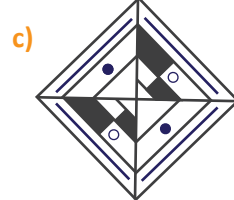
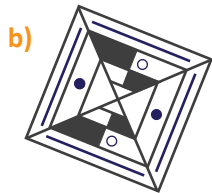
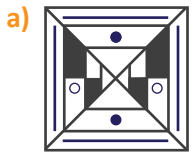
Yandaki şekil bir küp olacak şekilde katlandığında aşağıdaki küplerden hangisi oluşur?



3)



Yandaki şeklin ok istikametinde  $235^\circ$  döndürülmüş hali aşağıdakilerden hangisidir?



## İŞLETMELER İÇİN ELEŞTİREL DÜŞÜNME TESTİ

Eleştirel düşünme, düşünme yetisinin en üst basamağıdır. Bu test kişinin farklı bilgileri ve argümanları kullanarak analiz etme, değerlendirme, yorumlama ve sonuca ulaşma becerisini ölçmektedir.

Soru Sayısı

40

Süre

35 dk

## ÖRNEK SORULAR

- 1) “İnsanların daha az çalışması mı üretimin azalmasına neden olur.” fikrine karşılık olarak dile getirilen aşağıdaki ifadelerin hangileri bu fikri destekler?

- I - Şirketler zaten çalışanlarının tüm zamanından faydalanamıyorlar.  
II - İnsanlar daha mutlu olurlarsa iş performansları da daha iyi olacaktır.  
III - İnsanların daha az çalışması insanları işlerinden uzaklaştırır.  
IV - İnsanlar hobilerine de vakit ayırabileceklerinden daha verimli çalışırlar.  
V - Çalışanların az çalışmaları sadece kısa süreli motivasyon artışı sağlar, uzun vadede motivasyona katkısı olmaz.

- a) I, II ve V      b) III, V      c) I, II ve III      d) I, IV ve V      e) III, IV ve V

- 2) Kenan ile Kaan tek yumurta ikizidir ve bu nedenle her konuda tercihleri aynıdır. Kenan ve Kaan'ın eşleri olan Sema ve Seda bir gün kendi aralarında konuşurlar. Sema, kendisi ve Kenan'ın yumurtayı çok sevdiğini ama kıvamı konusunda problem yaşadıklarını söyler. Seda da aynı konu gündeme geldiğinde kendisinin de Kaan ile aynı konuda problem yaşadığını söylemiştir. Buna göre aşağıdakilerden hangileri söylenebilir?

- I – Seda ve Cansu yumurtayı rafadan severler.  
II – Seda ve Cansu yumurtanın kıvamı konusunda aynı tercihe sahiptirler.  
III – Kenan ve Seda'nın yumurta konusunda tercihleri farklıdır.

- a) Yalnız I      b) Yalnız II      c) Yalnız III      d) I ve II      e) II ve III

- 3) Bir partide yer alan Cansın, Yağız ve Hamdi adındaki 3 arkadaştan, Cansın ve Hamdi'nin yaşları arasındaki farkı kesin olarak söyleyebilmek için aşağıdaki bilgilerden hangilerini bilmek gerekir?

- I – Cansın ile Yağız'ın yaş ortalaması  
II – Yağız ile Hamdi'nin yaş ortalaması  
III – Cansın ile Hamdi'nin yaş ortalaması

- a) Yalnız I      b) I ve II      c) II ve III      d) I ve III      e) I, II ve III

- 4) Ünlü bilimadamı yaptığı uzun süren deneyler sonucunda bulduğu bir bileşenin erkeklerde saç dökülmesini azalttığını, bununla birlikte deneklerin bir kısmında mide rahatsızlığına veya eklem rahatsızlıklarına sebebiyet verdiğini, fakat hiçbir denekte bu iki rahatsızlığın yeni bileşen kullanımıyla birlikte oluşmadığını tespit etmiştir. Bu bilgiler ışığında Koray isimli denek rahatsızlığı nedeniyle hastaneye gittiğinde aşağıdaki sonuçlardan hangisiyle karşılaşabilir?

- I – Mide rahatsızlığı tespit edilir.  
II – Eklem rahatsızlığı tespit edilir.  
III – Hem mide, hem de eklem rahatsızlığı tespit edilir.

- a) Yalnız I      b) Yalnız II      c) Yalnız III      d) I ve II      e) I, II ve III

## PİK - SÖZEL VE SAYISAL DİKKAT TESTİ

Bireyin sözel ve sayısal ifadeler arasındaki benzerlik ve farklılıkları ne derece iyi algıladığını ölçer. Soru ifadeleri sektör ve kuruma özel hazırlanmaktadır.

Soru Sayısı

50

Süre

8 dk

## ÖRNEK SORULAR

Soru metnindeki ifadenin aynısını şıklar arasından bulup işaretleyiniz.

- 1) 

Telefon Numarası 0216 988 01 87
------------------------------------

  
a) 

Telefon Numarası 0212 988 01 87
------------------------------------

 b) 

Telefon Numarası 0216 899 01 87
------------------------------------

 c) 

Telefon Numarası 0216 988 01 87
------------------------------------

 d) 

Telefon Numarası 0216 988 01 87
------------------------------------

 e) 

Telefon Numarası 216 988 01 87
-----------------------------------
- 
- 2) 

Müşteri ID 321987-32
-------------------------

  
a) 

Müşteri ID 321987-32
-------------------------

 b) 

Müşteri ID 321987-23
-------------------------

 c) 

Müşteri ID 321987-32
-------------------------

 d) 

Müşteri ID 312987-32
-------------------------

 e) 

Müşteri ID 32198732
------------------------
- 
- 3) 

Yağmur C. No:78 Güngören-İST.
----------------------------------

  
a) 

Yağmur C. No:78 Güngören-İST
---------------------------------

 b) 

Yagmur C. No:78 Güngören-İST.
----------------------------------

 c) 

Yağmur C. N:78 Güngören-İST.
---------------------------------

 d) 

Yağmur C. No:87 Güngören-İST.
----------------------------------

 e) 

Yağmur C. No:78 Gungören-İST.
----------------------------------
- 
- 4) 

Bakiye 3.432.543 TL
------------------------

  
a) 

Bakiye 3.422.543 TL
------------------------

 b) 

Bakiye 3.432.543 ₺
-----------------------

 c) 

Bakiye 3.432.543 TL
------------------------

 d) 

Bakiye 3.423.543 TL
------------------------

 e) 

Bakiye 3.432543 TL
-----------------------
- 
- 5) 

Ahmet Murat Büyükdağlı
---------------------------

  
a) 

Ahmet Murat Büyük Dağlı
----------------------------

 b) 

Ahmet Murat Büyükdağlı
---------------------------

 c) 

Ahmet Murat Büyükdağcı
---------------------------

 d) 

Ahmet Murat Büyükdağlı
---------------------------

 e) 

AhmetMurat Büyükdağlı
--------------------------

## PİK - ARİTMETİK TESTİ

Bireyin sayısal işlemleri doğru ve hızlı yapabilme yeteneğini ölçmektedir.  
Bu yetenek özellikle hesap işleri ile uğraşan muhasebe uzmanı, gişe elemanı, depo elemanı gibi pozisyonlar için önemlidir.

Soru Sayısı

50

Süre

8 dk

## ÖRNEK SORULAR

Aşağıda verilen sayısal işlemleri yapınız ve doğru cevabı şıklar içerisinde bularak işaretleyiniz.

1)  $3 + 8 - 5$  a) 10 b) 11 c) 9 d) 7 e) 6

2)  $30 / 6 + 3$  a) 6 b) 5 c) 8 d) 7 e) 9

3)  $4 \times 11 - 7$  a) 17 b) 37 c) 48 d) 47 e) 35

4)  $(4 \times 3) + (2 \times 9)$  a) 25 b) 28 c) 30 d) 33 e) 36

5)  $36 + 12 + 21$  a) 59 b) 65 c) 48 d) 69 e) 56

6)  $4,20 \times 3,50$  a) 15,7 b) 14,7 c) 18,4 d) 17,4 e) 15,4

7)  $3,32 + 32,79$  a) 36,11 b) 31,16 c) 35,11 d) 36,36 e) 35,11

8)  $(3 \times 2 \times 3) + 17$  a) 23 b) 32 c) 26 d) 53 e) 35

9)  $(18 + 12) / (2 \times 3)$  a) 6 b) 5 c) 8 d) 7 e) 9

10)  $3^3$  a) 9 b) 17 c) 27 d) 23 e) 23



Pozitif  iK

[www.pozitifik.com](http://www.pozitifik.com)